

**Département de Biologie**

**Faculté des Sciences**

*Université Abdelmalek Essaâdi*

**Examen de Floristique**

**Session Juin 2005**

*Pr. Abderrahmane Merzouki*

**Nom et prénom de l'étudiant:** .....

**Section :** .....

?? . Entourez la s/classe qui appartient a la classe Liliopsida

1- Rosidae; 2- Dilleniidae; 3- Asteridae ;4- Arecidae

?? . Qui est l'auteur qui a établi définitivement Le système binomial ?

.....

?? . A quel type biologique appartiennent généralement les représentants de la famille *Liliaceae* ?

.....

?? . que signifie ..... (L.) D. A. Webb..... joint au binôme *Lythrum portula*

.....

?? . Citez 6 caractères qui différencient les monocotylédones des dicotylédones

.....

.....

.....

.....

.....

?? A quelle famille appartient le DF suivant

.....



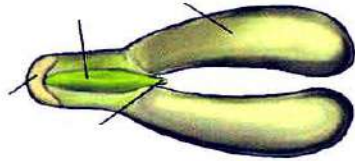
?? Ecrire la formule florale de ce diagramme

.....

?? Les angiospermes se subdivisent en deux grands groupes dont les caractères sont synthétisés sur la planche suivante : Légendez avec précision les éléments de ces deux groupes

Classe:

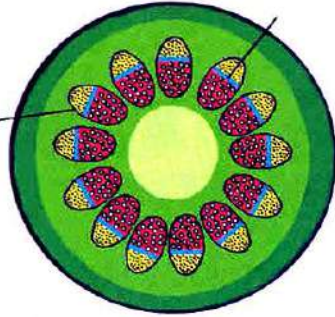
?



?

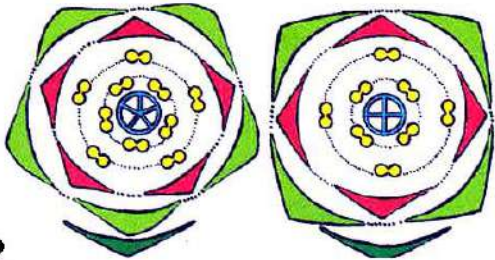


?




?

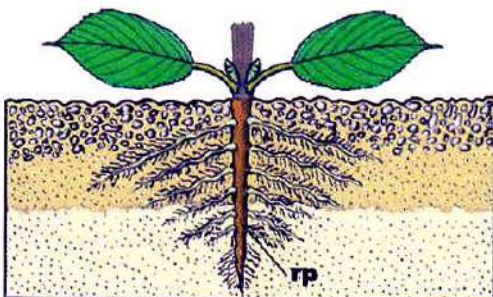
?



?




?




Classe:

?




?



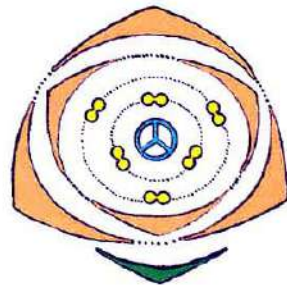
?

?

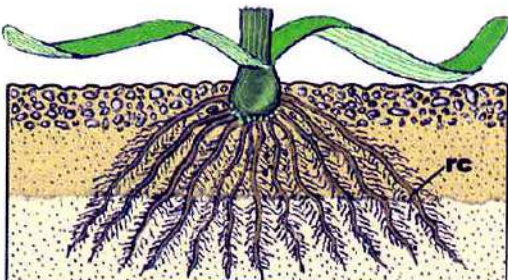
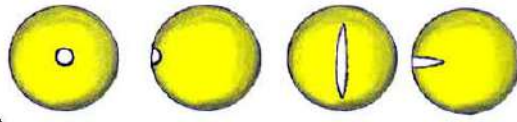


?

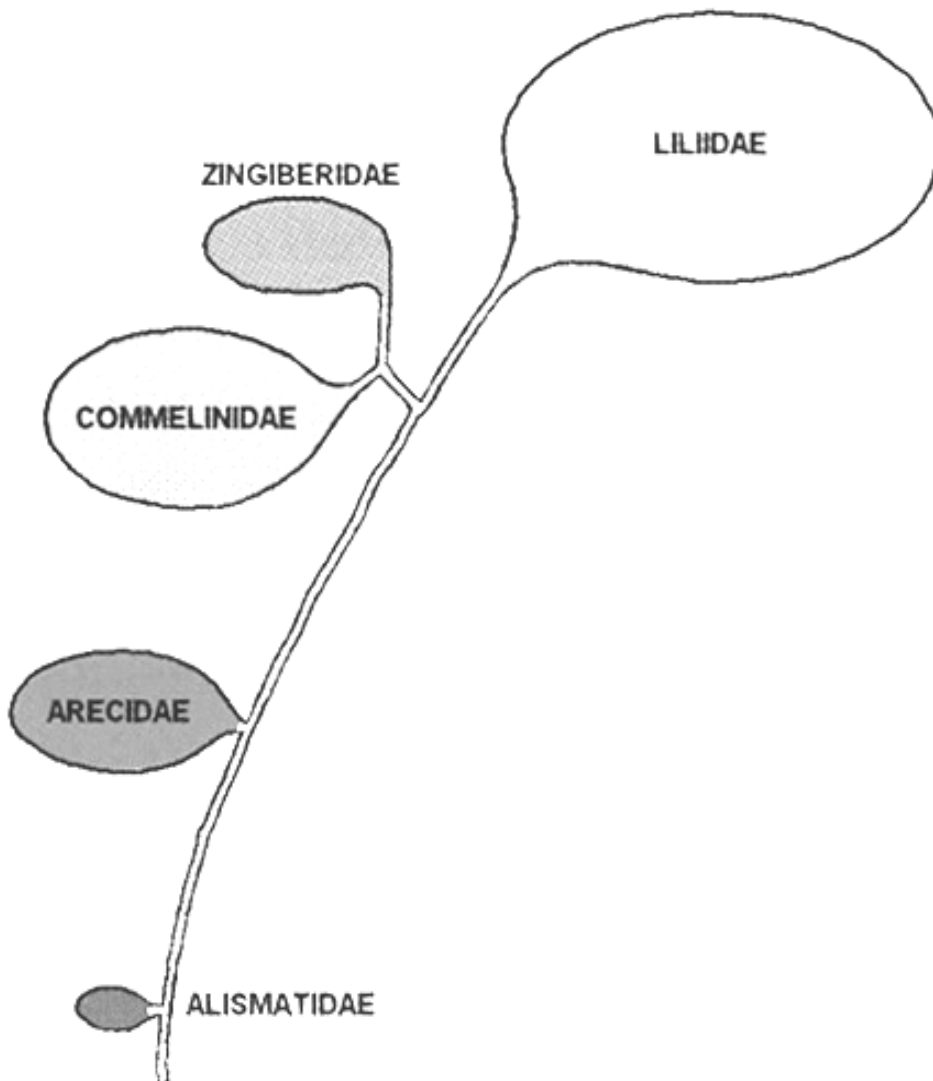
?




?



?? Placez les familles correspondantes à chaque sous classe  
(l'orthographe des noms botaniques est tenue en compte)



# Bon courage



## LIENS UTILES 🙌

### Visiter :

1. <https://biologie-maroc.com>

- Télécharger des cours, TD, TP et examens résolus (PDF Gratuit)

2. <https://biologie-maroc.com/shop/>

- Acheter des cahiers personnalisés + Lexiques et notions.
- Trouver des cadeaux et accessoires pour biologistes et géologues.
- Trouver des bourses et des écoles privées

3. <https://biologie-maroc.com/emploi/>

- Télécharger des exemples des CV, lettres de motivation, demandes de ...
- Trouver des offres d'emploi et de stage

